


संख्याएँ



0120CH11



संख्या लिखिए

संख्याओं के दहाइयों के बंडल और इकाइयाँ बनाइए

दहाइयाँ	इकाइयाँ
दहाइयाँ	इकाइयाँ
3	4

दहाइयाँ	इकाइयाँ
दहाइयाँ	इकाइयाँ
	43

दहाइयाँ	इकाइयाँ
दहाइयाँ	इकाइयाँ

दहाइयाँ	इकाइयाँ
दहाइयाँ	इकाइयाँ
	22

दहाइयाँ	इकाइयाँ
दहाइयाँ	इकाइयाँ





खाली स्थान में संख्या लिखिए।

दहाइयाँ	इकाई
<input type="text"/>	<input type="text"/>

दहाइयाँ	इकाइयाँ
<input type="text"/>	<input type="text"/>

दहाइयाँ	इकाइयाँ
<input type="text"/>	<input type="text"/>

दहाइयाँ	इकाइयाँ
<input type="text"/>	<input type="text"/>

दहाइयाँ	इकाइयाँ
<input type="text"/>	<input type="text"/>

दहाइयाँ	इकाइयाँ
<input type="text"/>	<input type="text"/>

दहाइयाँ	इकाई
<input type="text"/>	<input type="text"/>

दहाइयाँ	इकाइयाँ
<input type="text"/>	<input type="text"/>



51 से 70 तक की संख्याएँ

खाली स्थान भरिए।

		51
5 दहाइयाँ	1 इकाई	

		61
6 दहाइयाँ	1 इकाई	

		52
5 दहाइयाँ	2 इकाइयाँ	

6 दहाइयाँ	2 इकाइयाँ	

		53
5 दहाइयाँ	3 इकाइयाँ	

		63
6 दहाइयाँ	3 इकाइयाँ	

		54
5 दहाइयाँ	4 इकाइयाँ	

6 दहाइयाँ	4 इकाइयाँ	

5 दहाइयाँ	5 इकाइयाँ	

		65
6 दहाइयाँ	5 इकाइयाँ	

5 दहाइयाँ	6 इकाइयाँ	

6 दहाइयाँ	6 इकाइयाँ	

5 दहाइयाँ	7 इकाइयाँ	

		67
6 दहाइयाँ	7 इकाइयाँ	

		58
5 दहाइयाँ	8 इकाइयाँ	

		68
6 दहाइयाँ	8 इकाइयाँ	

		59
5 दहाइयाँ	9 इकाइयाँ	

6 दहाइयाँ	9 इकाइयाँ	

		60
5 दहाइयाँ	1 दहाई	

		70
6 दहाइयाँ	1 दहाई	

5 दहाइयाँ 1 दहाई

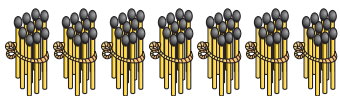

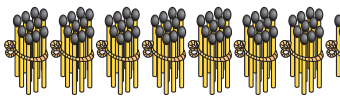

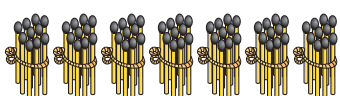

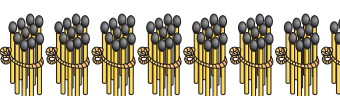



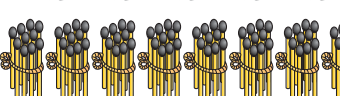



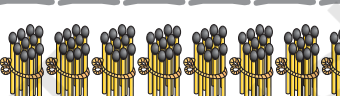

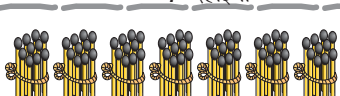

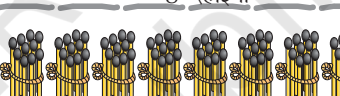

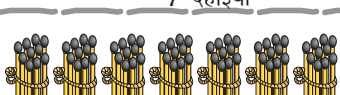

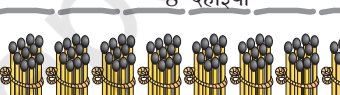




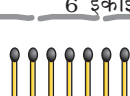



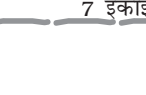

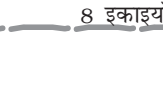

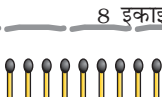




6 दहाइयाँ 1 दहाई





71 से 90 तक की संख्याएँ

खाली स्थान भरिए।

 7 दहाइयाँ	 1 इकाई	71	 8 दहाइयाँ	 1 इकाई	81
 7 दहाइयाँ	 2 इकाइयाँ		 8 दहाइयाँ	 2 इकाइयाँ	82
 7 दहाइयाँ	 3 इकाइयाँ	73	 8 दहाइयाँ	 3 इकाइयाँ	
 7 दहाइयाँ	 4 इकाइयाँ	74	 8 दहाइयाँ	 4 इकाइयाँ	
 7 दहाइयाँ	 5 इकाइयाँ		 8 दहाइयाँ	 5 इकाइयाँ	85
 7 दहाइयाँ	 6 इकाइयाँ	76	 8 दहाइयाँ	 6 इकाइयाँ	86
 7 दहाइयाँ	 7 इकाइयाँ		 8 दहाइयाँ	 7 इकाइयाँ	
 7 दहाइयाँ	 8 इकाइयाँ		 8 दहाइयाँ	 8 इकाइयाँ	88
 7 दहाइयाँ	 9 इकाइयाँ	79	 8 दहाइयाँ	 9 इकाइयाँ	89
 7 दहाइयाँ	 1 दहाई	80	 8 दहाइयाँ	 1 दहाई	90



91 से 100 तक की संख्याएँ

खाली स्थान भरिए।

		91
9 दहाइयाँ	1 इकाई	
		92
9 दहाइयाँ	2 इकाइयाँ	
		93
9 दहाइयाँ	3 इकाइयाँ	
		94
9 दहाइयाँ	4 इकाइयाँ	
		95
9 दहाइयाँ	5 इकाइयाँ	
		96
9 दहाइयाँ	6 इकाइयाँ	
9 दहाइयाँ	7 इकाइयाँ	
9 दहाइयाँ	8 इकाइयाँ	
9 दहाइयाँ	9 इकाइयाँ	
		100
9 दहाइयाँ	1 दहाई	





छूटी हुई संख्याओं को लिखिए।

51	52	53	54	55	56	57	58	59	60
	62			65				69	
		73							80
			84				88		
		93		95				99	



आओ साँप-सीढ़ी का खेल खेलें।

